

**EVALUASI BELAJAR TAHAP AKHIR NASIONAL
TAHUN 2001
ILMU PENGETAHUAN SOSIAL**

EBTANAS-01-01

- Tujuan dasar PNI yang didirikan Ir. Soekarno adalah ...
- A. mencapai kemerdekaan dengan kekuasaan sendiri
 - B. mendirikan partai-partai politik baru
 - C. meningkatkan bidang pendidikan dan kebudayaan
 - D. menyiapkan perlawanan terhadap Belanda

EBTANAS-01-02

- Dasar pembagian daerah waktu di Indonesia adalah ...
- A. garis lintang dan garis khatulistiwa
 - B. panjang wilayah RI berdasarkan garis bujur
 - C. wilayah RI terdiri dari gugusan pulau-pulau
 - D. letaknya di antara dua benua dan dua samudera

EBTANAS-01-03

- Salah satu jenis binatang yang hidup di wilayah Indonesia barat adalah ...
- A. badak
 - B. anoa
 - C. maleo
 - D. cendrawasih

EBTANAS-01-04



- Gambar pahlawan di samping adalah pemimpin rakyat melawan Belanda di daerah ...
- A. Tapanuli
 - B. Aceh
 - C. Minangkabau
 - D. Bali

EBTANAS-01-05

- Pemimpin rakyat Maluku yang berhasil memukul mundur bangsa Belanda ialah ...
- A. Pangeran Antasari
 - B. Pattimura
 - C. Diponegoro
 - D. Teuku Umar

EBTANAS-01-06

- Yang termasuk jenis pekerjaan wiraswasta adalah ...
- A. buruh
 - B. penyair
 - C. sopir
 - D. pengrajin

EBTANAS-01-07

- Kerajaan Islam yang terletak di Jawa Barat yaitu ...
- A. kerajaan Banten
 - B. kerajaan Samudera Pasai
 - C. kerajaan Demak
 - D. kerajaan Ternate

EBTANAS-01-08

- Sungai Memberamo di provinsi Irian Jaya melalui kota ...
- A. Fakfak
 - B. Sorong
 - C. Merauke
 - D. Wamena

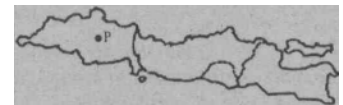
EBTANAS-01-09

- Perhatikan gambar di samping ini!
Gambar tersebut adalah pakaian adat daerah ...
- A. Maluku
 - B. Nusa Tenggara Barat
 - C. Irian Jaya
 - D. Nusa Tenggara timur



EBTANAS-01-10

- Perhatikan peta di bawah ini!
Pada kota yang bertanda huruf P adalah letak kerajaan ...
- A. Kahuripan
 - B. Singosari
 - C. Tarumanegara
 - D. Mataram Hindu



EBTANAS-01-11

- Kerajaan Sriwijaya disebut sebagai negara maritim, karena ...
- A. kerajaan Sriwijaya sebagai pusat pendidikan agama Budha
 - B. kerajaan Sriwijaya memiliki armada laut yang kuat
 - C. banyak pedagang asing yang berhubungan dengan Sriwijaya
 - D. letak kerajaan Sriwijaya berada di perairan sungai

EBTANAS-01-12

- Letak Indonesia secara geografis berada di antara dua Samudera yaitu ...
- A. Samudera Hindia dan Arktik
 - B. Samudera Pasifik dan Arktik
 - C. Samudera Hindia dan Atlantik
 - D. Samudera Hindia dan Pasifik

EBTANAS-01-13

Letak ibukota provinsi Riau pada peta di samping ini, ditunjukkan dengan angka ...

- A. I
- B. II
- C. III
- D. IV

**EBTANAS-01-14**

Mata pencaharian utama dari penduduk Indonesia adalah ...

- A. perdagangan
- B. peternakan
- C. pertanian
- D. perburuhan

EBTANAS-01-15

Bila angka kematian bayi lebih tinggi dari angka kelahiran, maka jumlah penduduk daerah itu akan ...

- A. meningkat
- B. berkurang
- C. tetap
- D. menurun

EBTANAS-01-16

Perpindahan penduduk dari Indonesia ke luar negeri disebut ...

- A. emigrasi
- B. transmigrasi
- C. urbanisasi
- D. evakuasi

EBTANAS-01-17

Perpindahan penduduk yang diakibatkan terjadinya bencana alam disebut ...

- A. emigrasi
- B. transmigrasi
- C. urbanisasi
- D. evakuasi

EBTANAS-01-18

Perlawanan rakyat Singaparna (Tasikmalaya) Jawa Barat terhadap Jepang dipimpin oleh ...

- A. Teuku Abdul Jalil
- B. Supriyadi
- C. K.H. Zaenal Mustafa
- D. Mohamad Toha

EBTANAS-01-19

Alasan Jepang membebaskan Ir. Soekarno dan Drs. Moh. Hatta dari penjara pada awal pendudukan Jepang adalah ...

- A. membebaskan dari penjajahan
- B. menarik simpati rakyat Indonesia
- C. memaksa mereka bekerja sama
- D. memberi janji yang muluk-muluk

EBTANAS-01-20

Mengirim berita singkat dengan cara melalui kantor pos dapat dilakukan dengan ...

- A. telegram
- B. teleks
- C. faksimili
- D. surat

EBTANAS-01-21

Salah satu jenis angkutan laut antar pulau yang berdekatan adalah ...

- A. ferry
- B. kano
- C. dayung
- D. rakit

EBTANAS-01-22

Gambardi bawah termasuk jenis sumberdaya alam....

- A. bahan tambang
- B. perkebunan
- C. dapat diperbaharui
- D. tak dapat diperbaharui

**EBTANAS-01-23**

Pada waktu Jepang menyerah kalah kepada sekutu, para pejuang bangsa Indonesia memanfaatkan masa kosong untuk ...

- A. mempersiapkan kemerdekaan RI
- B. melawan penjajah Jepang
- C. memproklamasikan kemerdekaan
- D. membentuk negara boneka

EBTANAS-01-24

Tujuan dibentuk BPUPKI adalah ...

- A. mempersiapkan kemerdekaan RI
- B. menyelidiki kemerdekaan RI
- C. membentuk panitia kemerdekaan RI
- D. mengusahakan kemerdekaan RI

EBTANAS-01-25

Golongan pemuda mendesak golongan tua agar segera memproklamasikan kemerdekaan dengan alasan ...

- A. Jepang telah menyerah kepada Sekutu
- B. Jenderal Tarauchi telah memberi jaminan
- C. Sekutu akan segera datang ke Indonesia
- D. Indonesia harus merdeka sebelum Sekutu datang

EBTANAS-01-26

Perairan sempit antara pulau yang dimiliki Indonesia disebut ...

- A. selat
- B. teluk
- C. laut
- D. samudera

EBTANAS-01-27

Wilayah laut yang paling dalam terdapat di sekitar pulau

...

- A. Kalimantan
- B. Sulawesi
- C. Sumatera
- D. Jawa

EBTANAS-01-28

Wilayah yang diarsir pada gambar peta Asia Tenggara di bawah adalah negara ...



- A. Filipina
- B. Malaysia
- C. Thailand
- D. Brunai Darussalam

EBTANAS-01-29

Bentuk kerja sama ASEAN di bidang politik adalah ...

- A. mengadakan pendidikan militer bersama
- B. mengadakan latihan militer bersama
- C. memberantas peredaran narkoba
- D. mengadakan perjanjian ekstradisi

EBTANAS-01-30

Negara-negara yang berada di Asia Selatan adalah ...

- A. Jepang, Korea Utara, dan Filipina
- B. Korea Selatan, Jepang, dan Laos
- C. Cina, Taiwan, dan Korea Utara
- D. India, Pakistan, dan Nepal

EBTANAS-01-31

Negara yang termasuk wilayah Asia Barat adalah ...

- A. India, Pakistan, dan Bhutan
- B. Indonesia, Filipina, dan Vietnam
- C. Jepang, Hongkong, dan Korea Selatan
- D. Iran, Libanon, dan Uni Emirat Arab

EBTANAS-01-32

Salah satu usaha yang dilakukan pemerintah Indonesia pada awal kemerdekaannya adalah....

- A. berunding dengan penjajah
- B. memberi bantuan ke luar negeri
- C. membangun gedung dan jembatan
- D. membentuk badan keamanan

EBTANAS-01-33

Salah satu akibat Agresi Militer Belanda bagi Indonesia adalah ...

- A. Indonesia tidak diakui dunia luar
- B. Indonesia dikecam dunia Internasional
- C. Irian Barat masuk negara RIS
- D. Wilayah Indonesia semakin sempit

EBTANAS-01-34

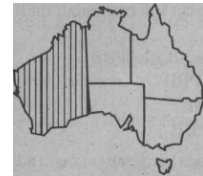
Tujuan pembentukan pemerintah darurat di Bukit Tinggi Sumatera Barat adalah ...

- A. menghindari Belanda dan Kompeni
- B. menyelamatkan bangsa dan negara
- C. mengisi kekosongan pemerintah dan negara
- D. memindahkan letak ibukota dan pemerintah

EBTANAS-01-35

Daerah yang diarsir pada peta di bawah adalah negara ...

- A. Australia Barat
- B. Victoria
- C. Tasmania
- D. New South Wales



EBTANAS-01-36

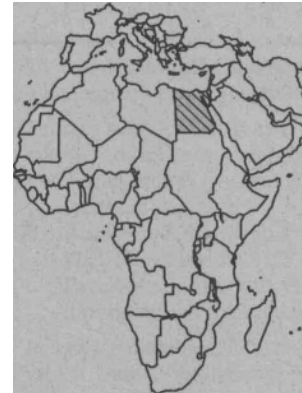
Gunung tertinggi di Australia adalah ...

- A. Gunung Olga
- B. Gunung Kasciousco.
- C. Gunung Mac Donell
- D. Gunung Flinders

EBTANAS-01-37

Daerah yang diarsir pada gambar di bawah adalah ...

- A. Tunisia
- B. Libia
- C. Mesir
- D. Aljajair



EBTANAS-01-38

Iklim utama Afrika bagian tengah adalah ...

- A. iklim tropis
- B. iklim subtropis
- C. C iklim sedang
- D. iklim laut

EBTANAS-01-39

Salah satu hasil Konferensi Asia Afrika di Bandung adalah ...

- A. menghentikan percobaan senjata nuklir
- B. mengakui persamaan semua ras
- C. memberantas imperialisme dan kolonialisme
- D. meredakan ketegangan di Timur Tengah

EBTANAS-01-40

Manfaat Konferensi Asia Afrika bagi perkembangan bangsa-bangsa di Asia tenggara adalah ...

- A. memperoleh kemajuan dalam bidang ekonomi
- B. mempercepat tercapainya kemerdekaan
- C. meningkatkan kerja sama perdagangan
- D. menyelesaikan sengketa negara-negara anggota

EBTANAS-01-41

Setelah pengakuan kedaulatan RI, Belanda tetap menguasai wilayah Irian Barat karena Belanda ingin mendirikan ...

- A. Papua Baru
- B. Negara Papua
- C. BFO
- D. Negara Boneka

EBTANAS-01-42

Salah satu isi Trikora adalah ...

- A. Gagalkan pembentukan Negara Papua merdeka
- B. Kibarkan Sang Merah Putih di Irian Barat
- C. Perhebat ketahanan Revolusi di Indonesia
- D. Gagalkan pembentukan negara Indonesia Timur

EBTANAS-01-43

Salah satu latar belakang berdirinya PBB adalah ...

- A. perlombaan persenjataan
- B. kesenjangan sosial antar negara
- C. memelihara perdamaian dunia
- D. penderitaan akibat peperangan

EBTANAS-01-44

Menyelidiki setiap persengketaan atau situasi yang menimbulkan pergeseran internasional, merupakan salah satu tugas ...

- A. Dewan Ekonomi dan Sosial PBB
- B. Dewan Keamanan PBB
- C. Dewan Jenderal PBB
- D. Dewan Perwalian PBB

EBTANAS-01-45

Negara di kawasan Eropa yang sangat maju adalah ...

- A. Eropa Barat
- B. Eropa Timur
- C. Eropa Utara
- D. Eropa Selatan

EBTANAS-01-46

Dataran rendah di Eropa Timur disebut ...

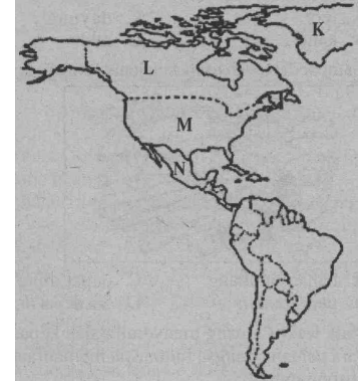
- A. Dataran Dekan
- B. Dataran Tibet
- C. Dataran Siberia
- D. Dataran Skandinavia

EBTANAS-01-47

Perhatikan gambar peta di bawah!

Negara Amerika Serikat ditandai dengan huruf ...

- A. K
- B. L
- C. M
- D. N



EBTANAS-01-48

Benua Amerika terbagi menjadi tiga bagian yaitu ...

- A. Amerika Utara-Selatan-Timur
- B. Amerika Utara-Timur-Tengah
- C. Amerika Utara-Tengah-Barat
- D. Amerika Utara-Tengah-Selatan

EBTANAS-01-49



Perhatikan gambar!

Gambar pahlawan revolusi di samping bernama ...

- A. Katamso Dharmokusumo
- B. Kolonel Sugijono
- C. D.I. Panjaitan
- D. K. Satsuit Tubun

EBTANAS-01-50

Salah satu tindakan PKI sebelum melakukan pemberontakan 30 September 1965 di bidang pemerintahan yaitu ...

- A. menentang kebijaksanaan pemerintah
- B. melakukan kudeta terhadap pemerintah
- C. menguasai kantor-kantor pemerintah
- D. melakukan penyusupan melalui militer