




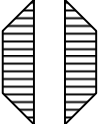
**UJIAN AKHIR SEKOLAH  
TAHUN 2005  
ILMU PENGETAHUAN SOSIAL**

**UAS-05-01**

- Yang dimaksud dengan atlas adalah ...
- lukisan yang memuat unsur geo tertentu
  - gambaran permukaan bumi dengan bentuk sesungguhnya
  - lukisan bumi pada bidang datar dengan skala tertentu
  - kumpulan gambar permukaan bumi dalam bentuk buku.

**UAS-05-02**

Penduduk Indonesia jumlah usia muda lebih besar daripada usia tua digambarkan dalam bentuk piramida.

- 
- 
- 
- 

**UAS-05-03**

Kegiatan perekonomian utama Singapura adalah....

- pertanian
- industri
- perdagangan
- perikanan

**UAS-05-04**

Perhatikan peta berikut ini!  
Daerah penghasil intan ditunjukkan dengan nomor ...



- 1
- 2
- 3
- 4

**UAS-05-05**

Manfaat jenis barang tambang batu bara adalah ...

- bahan bakar
- bahan mentah logam
- bahan bangunan
- sumber bahan

**UAS-05-06**

Perhatikan peta berikut!  
Lokasi industri semen Gresik ditunjukkan oleh nomor ...



- 1
- 2
- 3
- 4

**UAS-05-07**

Jenis perhubungan udara yang menghubungkan daerah terpencil di Indonesia Bagian Timur adalah ...

- Perinter
- Dornestik
- Nusantara
- Internasional

**UAS-05-08**

Perhatikan tabel berikut! '

Objek Wisata	
1.	Danau Toba
2.	Monumen Nasional (Monas)
3.	Candi Borobudur
4.	Gunung Tangkuban Perahu
5.	Pantai Pelabuhan Ratu
6.	Puncak Bogor

Yang termasuk objek wisata alam adalah ...

- 1, 2, 3
- 1, 4, 6
- 2, 3, 6
- 4, 5, 6

**UAS-05-09**

- Urutan benua terluas yang benar adalah ...
- A. Amerika, Afrika, Eropa, Australia, Asia
  - B. Asia, Amerika, Afrika, Eropa, Australia
  - C. Asia, Australia, Afrika, Amerika, Eropa
  - D. Afrika, Eropa, Asia, Amerika, Australia

**UAS-05-10**

- Negara India bagian selatan berbatasan dengan negara ...
- A. Pakistan
  - B. Nepal
  - C. SriLangka
  - D. Bangladesh

**UAS-05-11**

Perhatikan peta berikut ini!



- Negara Mesir pada peta ditunjukkan oleh huruf ...
- A. U
  - B. F
  - C. S
  - D. T

**UAS-05-12**

- Tujuan dari proyek Swendeerzea atau Polderisasi di negara Belanda adalah ...
- A. sumber pembangkit listrik
  - B. menambah luas daratan
  - C. sirkulasi air untuk pertanian
  - D. tempat budidaya perikanan

**UAS-05-13**

- Daerah pemukiman penduduk terdapat di negara Brazil terletak di sebelah ...
- A. Timur
  - B. Selatan
  - C. Barat
  - D. Utara

**UAS-05-14**

- Benua yang dihubungkan oleh Samudra Atlantik adalah ...
- A. Asia, Australia, Afrika
  - B. Amerika, Asia, Eropa
  - C. Amerika, Eropa, Afrika
  - D. Afrika, Eropa, Australia

**UAS-05-15**

- Organisasi yang berada di bawah naungan PBB yang bergerak dibidang pangan adalah ...
- A. ILO
  - B. WHO
  - C. UNICEF
  - D. FAO

**UAS-05-16**

- Berikut ini yang *bukan* merupakan ciri kehidupan manusia purba masa berburu dan mengumpulkan makanan adalah ...
- A. Hidup sudah menetap
  - B. Food catering
  - C. Hidupnya berpindah-pindah
  - D. Hidupnya bergantung pada alam.

**UAS-05-17**

Perhatikan bagan di bawah ini

I	II	III	IV
Porselin	Gerabah	Kayu cendana	Kain sutra
Karpet	Perak	Permadani	Porselin
Emas	Gelas	Perak	Batu Giok

- Yang merupakan komoditas perdagangan para pedagang China ditunjukkan pada nomor ...
- A. I
  - B. II
  - C. III
  - D. IV

**UAS-05-18**

Perhatikan peta berikut!

Kerajaan Islam Samudra Pasai pada peta ai bawah di tunjukan oleh nomor ...



- A. I
- B. II
- C. III
- D. IV

**UAS-05-19**

- Tujuan kedatangan bangsa Eropa ke Indonesia di antaranya adalah ...
- A. mencari daerah rempah-rempah
  - B. membuktikan teori bumi bulat
  - C. mencari pasardi wilayah Asia
  - D. mencari bahan baku perindustrian

**UAS-05-20**

Revolusi Amerika metetus sebagai upaya bangsa-bangsa Inggris yang menjadi emigran di Amerika Utara untuk ...

- A. mempersatukan bangsa-bangsa Amerika
- B. memisahkan diri dari pemerintah Amerika Serikat
- C. memutuskan hubungan dengan pemerintah pusat di Inggris
- D. memutuskan diri dari pemerintah pusat di Inggris dan hidup merdeka

**UAS-05-21**

Yang menjadi faktor penyebab khusus perang Diponegoro 1825-1830 adalah ...

- A. rakyat sangat menderita dikarenakan pajak tinggi
- B. pembuatan jalan yang melewati makam leluhur pangeran Diponegoro
- C. Belanda ikut campur dalam urusan kerajaan Mataram
- D. masuknya budaya barat pada keraton

**UAS-05-22**

Perhatikan tabel di bawah ini !

1. Peta	4. Jawa Hokokai
2. Fujinkai	5. PPKI
3. Heiho	8. Syusintai

Dalam tabel di atas yang termasuk organisasi militer bentukan Jepang ditunjukkan oleh nomor ...

- A. 1, 2, 4, 5
- B. 2, 3, 4, 5
- C. 1, 3, 4, 6
- D. 3, 4, 5, 6


**UAS-05-23**

Di bawah ini merupakan faktor penyebab peristiwa Rengasdengklok adalah ...

- A. perbedaan pendapat golongan tua dan pemuda mengenai Proklamasi
- B. perbedaan pendapat golongan tua dan Jepang mengenai janji kemerdekaan
- C. perbedaan pendapat antara pihak Sekutu dan Jepang mengenai struktur Indonesia
- D. peristiwa pembakaran kota Bandung oleh para pejuang

**UAS-05-24**

Lihat peta !



Daerah yang diarsir pada peta di atas menunjukkan wilayah kekuasaan Republik Indonesia menurut hasil perundingan ...

- A. Renville
- B. KMB
- C. Linggarjati
- D. Roem-Royen

**UAS-05-25**

Dibawahini merupakan hasil sidang PPKI tanggal 18-08-1945 adalah ...

- A. mensahkan dan menetapkan UUD 1945
- B. pembagian wilayah R.I menjadi 8 propinsi
- C. pembentukan 12 kementerian
- D. Badan Keamanan Rakyat

**UAS-05-26**

Latar belakang pertempuran Surabaya 10 November 1945 adalah ...

- A. dikeluarkannya ultimatum oleh sekutu pada masyarakat Surabaya
- B. sekutu menyerbu penjara R.I dan membebaskan perwira-perwira sekutu
- C. penurunan bendera Belanda di Hotel Yamato oleh pemuda Surabaya
- D. terbunuhnya Brigadir Jenderal A.W.S Mallaby

**UAS-05-27**

Pemilu I pada tanggal 29 September 1955 untuk memilih ...

- A. anggota DPR
- B. anggota Konstituante
- C. anggota MPR
- D. anggota Senat

**UAS-05-28**

Arti penting dari dekrit presiden 5 Juli 1959 bagi bangsa Indonesia adalah ...

- A. berlakunya kembali UUD 1950
- B. berlakunya kembali UUD 1945.
- C. berlakunya kembali konstitusi RIS
- D. berlakunya kembali Demokrasi Liberal

**UAS-05-29**

Salah satu syarat modal dasar pembangunan Nasional Indonesia adalah ...

- A. Repelita
- B. kesetabilan nasibnal
- C. jumlah penduduk yang besar
- D. penyebaran pembangunan

**UAS-05-30**

"*People of Power*" membawa pengaruh besar terhadap negara lain di luar Philipina yaitu ...

- A. sering terjadi infiltrasi ke negara lain
- B. sering terjadi perubahan kekuasaan ke negara lain
- C. munculnya partai oposisi yang tunggal sebagai hasil dari difusi
- D. suara rakyat mulai diperhitungkan oleh penguasa suatu negara.

**UAS-05-31**

Di bawah ini yang termasuk daftar kebutuhan manusia menurut tingkatnya adalah ...

- A. sekarang, makanan, yang akan datang
- B. minuman, makanan, tersier (mewah)
- C. primer, sekunder, tersier (mewah)
- D. makanan, kendaraan, perumahan.

**UAS-05-32**

Dari pernyataan berikut, makna prinsip ekonomi yang tepat adalah ...

- A. sekarang yang mendorong manusia melakukan tindakan ekbhomi
- B. faktor manusia melakukan tindakan ekononri
- C. pedoman yang menjadi dasar dalam kegiatan ekonomi yang berpegang pada azas dengan pengorbanan tertentu mendapat hasil maksimal
- D. Modal manusia dalam melaksanakan segala tindakan ekonomi

**UAS-05-33**

Peranan pasar bagi konsumen adalah sebagai tempat untuk ...

- A. memperkenalkan hasil produksi
- B. menjual hasil produksi barang/jasa
- C. mendapatkan barang yang dibutuhkan
- D. membuka kesempatan kerja bagi masyarakat

**UAS-05-34**

Ada beberapa sistem perekonomian yang kita kenal di dunia, Indonesia menganut sistem perekonomian ...

- A. sistem kapitalis/liberal
- B. sistem demokrasi pancasila
- C. sistem demokrasi sosial
- D. sistem campuran

**UAS-05-35**

Di bawah ini yang termasuk permodalan koperasi dari dalam adalah ...

- A. simpanan pokok, simpanan wajib
- B. simpanan pokok, simpanan wajib, tabungan, pinjaman
- C. simpanan pokok, tabungan anggota, pinjaman, hibah
- D. simpanan pokok, simpanan wajib, simpanan sukarela, dan cadangan

**UAS-05-36**

Diantara pajak yang pembayarannya dapat dialihkan kepada orang lain disebut ...

- A. pajakl angsumg
- B. pajak daerah
- C. pajak tidak langsung
- D. pajak bumi dan bangunan

**UAS-05-37**

Untuk mempercepat tujuan pembangunan, maka pemerintah perlu mengatur pertumbuhan penduduk melalui ...

- A. peningkatan produksi pertanian
- B. keluarga berencana
- C. transmigrasi
- D. proyek padat karya

**UAS-05-38**

Meningkatkan kemandirian perekonomian nasional dan meningkatkan daya'tahan perekonomian nasional merupakan arah dan tujuan pembangunan sektor ...

- A. pertanian
- B. perdagangan
- C. transportasi
- D. industri

**UAS-05-39**

Dana yang tersimpan di bank; yang sewaktu-waktu dapat digunakan untuk melakukan pembayaran di sebut dengan ...

- A. uang kertas
- B. uang giral
- C. uang kartal
- D. uang logain

**UAS-05-40**

Bank yang bertugas untuk membimbing pelaksanaan kebijaksanaan keuangan pemerintah, mengkoordinirdani mengawasi seluruh bank adalah ...

- A. Bank sirkulasi
- B. Banksentral
- C. BankUmum
- D. Bank Pembangunan

**UAS-05-41**

Lembaga keuangan di bawah ini yang termasuk lembaga keuangan bukan bank adalah ...

- A. Bank Rakyat Indonesia
- B. Bank Pembangunan Indonesia
- C. Asuransi
- D. Bank Tabungan Negara

**UAS-05-42**

Perdagangan antar negara banyak manfaatnya, dari ungkapan berikut mana yang termasuk manfaat perdagangan antar negara?

- A. terpenuhinya kebutuhan suatu negara
- B. adanya perbedaan ideologi antar negara
- C. kualitas barang yang diekspor tidak memenuhi syarat
- D. terjadinya monopoli perdagangan oleh negara maju

**UAS-05-43**

Di bawah ini yang tidak termasuk sumber penrefehan devisa negara adalah ...

- A. ekspor barang
- B. impor barang
- C. bantuan luar negeri
- D. pariwisata

**UAS-05-44**

Harga jual sebuah meubel yang diterima oleh penjual Rp. 160.000,00. Biaya pemasaran yang dikeluarkan. sebesar Rp. 15.000,00 maka ...

- A. harga pokok Rp. 145.000,00
- B. harga jual kotor Rp.175.300,00
- C. harga jual bersih Rp. 145.000,00
- D. harga jual bersih Rp. 175.000,00

**UAS-05-45**

Irman rnempunyai tabungan sebesar Rp. 4.000.000,00,- yang ditabung di bank selama 18 bulan, jika bank memberi bunga 12% pertahun, maka bunga yang diterima Irman adalah ...

- A. 700.000,00
- B. 720.000,00
- C. 72.000,00
- D. 740.000,00

**UAS-05-46**

Sebutkan 3 jenis bencana alam yang sering terjadi di negara Jepang?

**UAS-05-47**

Sebutkan 3 faktor pendukung negara Amerika Serikat menjadi negara industri maju di dunia?

**UAS-05-48**

Jelaskan perbedaan perjuangan bangsa Indonesia sebelum tahun 1908 dan sesudah tahun 1908

**UAS-05-49**

Jelaskan pengaruh KAA bagi bangsa-bangsa di dunia!

**UAS-05-50**

Jika harga tunai sebuah lemari es Rp. 1.600.000,00 dijual secara angsuran dengan uang muka Rp. 550.000,00 sisanya diangsur 10 kali setiap bulan. Bunga tiap bulan 2%, maka hitunglah:

- a. berapa besar angsuran ditambah bunga tiap bulannya?
- b. berapa selisih harga tunai dan harga kredit lemari es tersebut?